

いんいん

はこの中
おかしめいぶん
7

なまえ

はこのなか

ステップ 1 よみのめあてとがくしゅうけいかくをつかむ

① 「はこのなか」をよむ。

② こみだしをつける。

③ といをよんでよみのめあてをかく。

④ がくしゅうけいかくをよむ。

12	11	6~	1~
		10	5

ステップ 2 かいてつたえる

① どこにあるかをよむ。

② どこにあるかをかく。

③ どこにあるかをつたえる。

16	14	13
	15	

のりと
はさみ

20	18	17
	19	

えんぴつと
えんぴつ
けずり

24	22	21
	23	

ぬいぐるみと
ミニカーと
ロボット

ステップ 3 かいてつたえる

① なにがどこにあるかをかいてつたえる。

25	26
----	----

※ カード

27



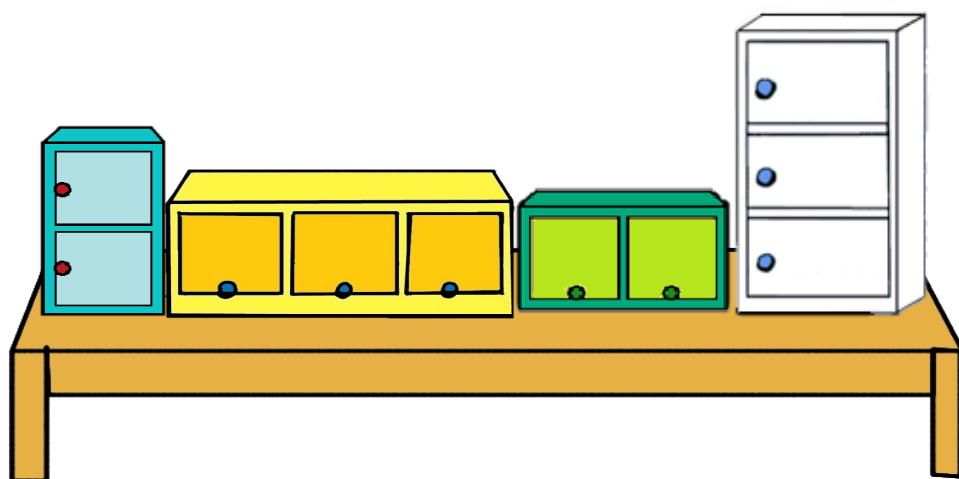
はこの中^{なか}

はこが四つあります。

はこの中^{なか}には、

いろいろなものが入^{はい}っています。

なにがどこに入^{はい}っていますか。



みどりのはここには、

のりとはさみが入っています。

のりは右^{みぎ}に入^{はい}っています。

はさみは左^{ひだり}に入^{はい}っています。



あおのはこには、

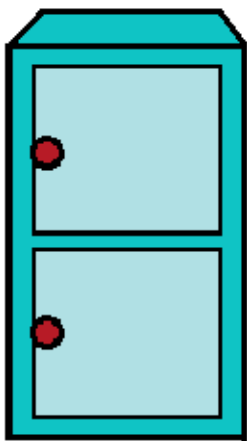
えんぴつとえんぴつけずりが

入はいっています。

えんぴつは上うえに入はいっています。

えんぴつけずりは

下したに入はいっています。



きいろのはここには、


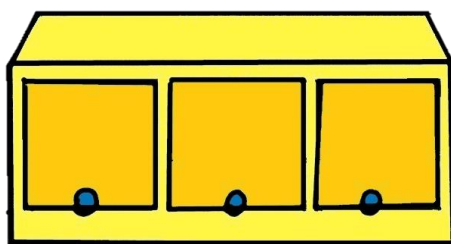
ぬいぐるみとミニカーと

ロボットがはい入っています。

ぬいぐるみは右みぎに入はいっています。

ミニカーはまん中なかに入はいっています。

ロボットは左ひだりに入はいっています。




しろのはここには、

さいふとティッシュと

ハンカチがはい入っています。


なにがどこにはい入っているか

かいてみましょう。



- ① だいまいとたずねていることばを□でかこみましょう。
- ② だいまいをこみだしにかきましょう。

こみだし



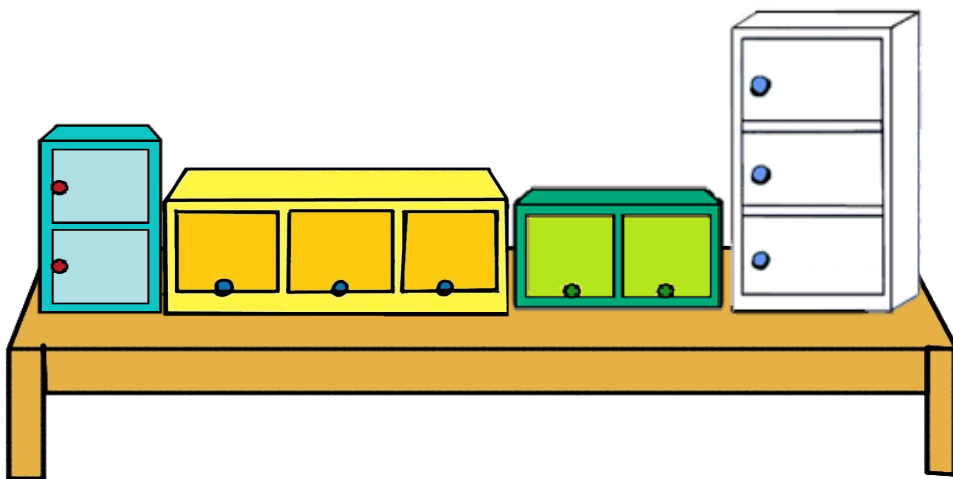
はこの中^{なか}

はこが四つあります。

はこの中^{なか}には、

いろいろなものが入^{はい}っています。

なにがどこに入^{はい}っていますか。



- ① はこをあらわすことばを□でかこみましょう。
- ② □でかこんだことばをこみだしにかきましょう。

こみだし



みどりのはこには、

のりとはさみが入っています。


のりは右に入っています。

はさみは左に入っています。



- ① はこをあらわすことばを□でかこみましょう。
- ② □でかこんだことばをこみだしにかきましょう。

こみだし

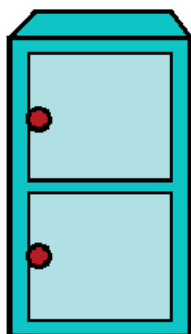


あおのはこには、

えんぴつとえんぴつけずりが入っています。

えんぴつは上に入っています。


えんぴつけずりは下に入っています。



① はこをあらわすことばを □ でかこみましよう。

② □ でかこんだことばをこみだしにかきましよう。

こみだし



きいろのはこには、



ぬいぐるみとミニカーと

ロボットがはい入っています。

ぬいぐるみはみぎ右にはい入っています。


ミニカーはなかまん中はいに入っています。

ロボットはひだり左はいに入っています。



- ① はこをあらわすことばを□でかこみましょう。
- ② □でかこんだことばをこみだしにかきましょう。

こみだし



しろのはこには、

さいふとティッシュと

ハンカチが^{はい}入っています。

なにがどこに^{はい}入っているか

かいてみましょう。



① たずねているぶん^{ぶん}にせん^{せん}をひきましよう。

はこが四つあります。

はこの中^{なか}には、いろいろなものが入^{はい}っています。

なにがどこに入^{はい}っていますか。

② たずねているぶんをかきましよう。

③ よみのめあてをみてかきましよう。



がくしゅうけいかくをよみましよう。

1 はこのなかをよむ。

2 こみだしをつくる。

3 よみのめあてをかく。

4 みどりのはこをよむ。

5 あおのはこをよむ。

6 きいろのはこをよむ。

7 しろのはこをよむ。

① はこに入っているものにせんをひきましよう。

② 右と左を□でかこみましよう。

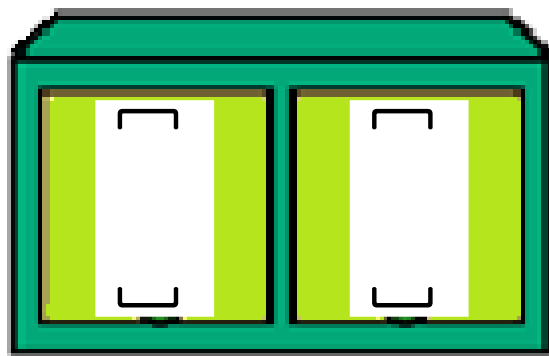
③ はこの中に右と左をかきましよう。

みどりのはこには、

のりとはさみが入っています。


のりは右に入っています。

はさみは左に入っています。



① のりとはさみはどこに入はいっているか、ぶんをみてかきましよう。

のりは

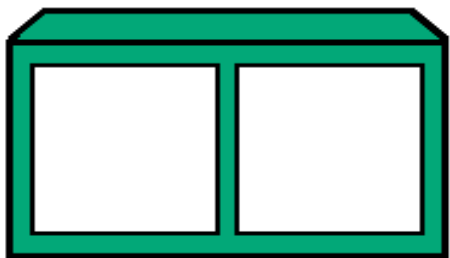


はさみは



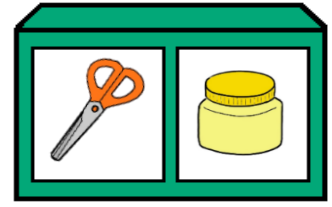
② () に右みぎと左ひだりをかきましよう。

③ のりとはさみのえをはって、のりとはさみがどこにあるかいいましよう。




() ()
() ()


① なにが はい入っていますか。



みどりの はいには、
入っています。




と



が

② どこに はい入っていますか。

のりは




はいに入っています。

はさみは




はいに入っています。


③ なにがどこに はい入っていますか。




は



はいに入っています。



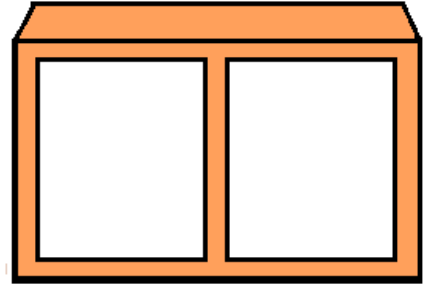
は



はいに入っています。




① ぶんのおりにえをはりましょう。



右^{みぎ}にえんぴつが入^{はい}っています。


左^{ひだり}にけしゴムが入^{はい}っています。

② えをみてなにがどこに入^{はい}っているかかきましましょう。



きゅうりは

トマトは



りんごは

バナナは

(27 ページの カード)

- ① はこに入はいっているものにせんをひきましよう。
- ② 上うえと下したを□でかこみましよう。
- ③ はこの中なかに上うえと下したをかきましよう。


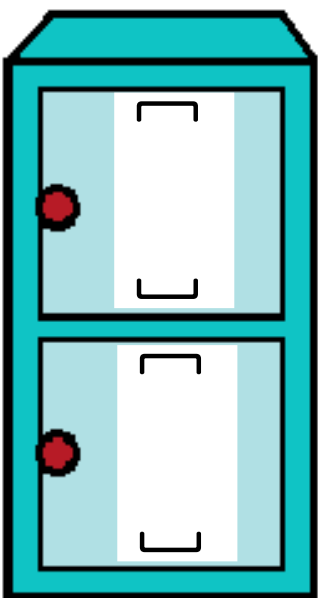
あおのはこには、えんぴつと

えんぴつつけずりが入はいっています。

えんぴつは上うえに入はいっています。


えんぴつつけずりは

下したに入はいっています。




① えんぴつとえんぴつけずりはどこにはい入っていますか。
ぶんをみてかきましよう。

えんぴつは




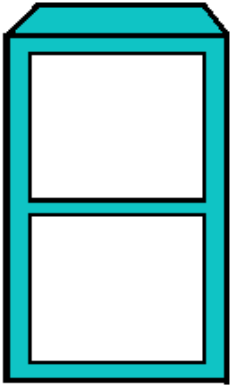
えんぴつけずりは



② () に上うえと下したをかきましよう。


③ えんぴつとえんぴつけずりのえをはって、なにが
どこにはい入っているかかきましよう。

() () () ()



(27 ページの カード)

① なにが入はいっていますか。



あおのはここには、

が入はいっています。

と

② どこに入はいっていますか。

えんぴつは

に入はいっています。

えんぴつつけずりは

に入はいっています。

③ なにがどこに入はいっていますか。

は

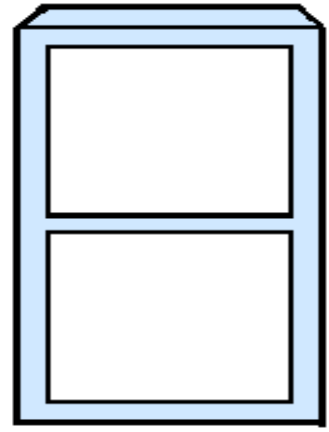
は

に入はいっています。

は

に入はいっています。

① ぶんのとおりにえをはりましょう。



上うえにクッキーがはい入っています。


下したにジュースがはい入っています。

② えをみてなにがどこにはい入っているかかきましましょう。



ノートは

えんぴつは



みかんは

りんごは

(27 ページの カード)

- ① はこに入はいっているものにせんをひきましょう。
- ② 右みぎ・左ひだり・まん中なかを□でかこみましょう。
- ③ はこの中なかに右みぎ・左ひだり・まん中なかをかきましょう。

きいろのはこには、


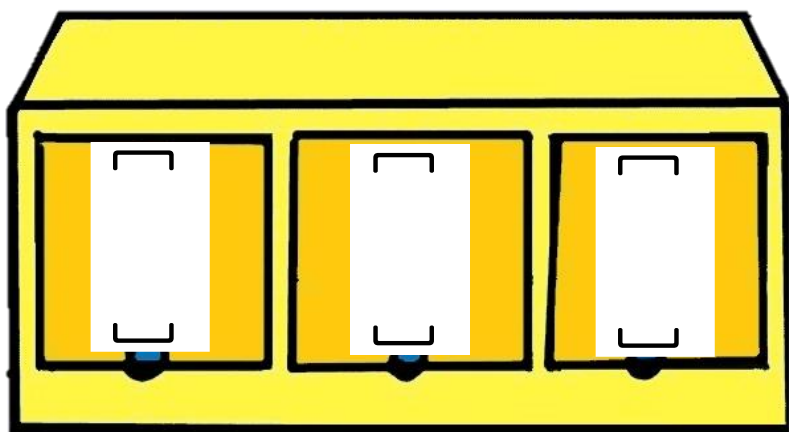
ぬいぐるみとミニカーと

ロボットが入はいっています。

ぬいぐるみは右みぎに入はいっています。

ミニカーはまん中なかに入はいっています。

ロボットは左ひだりに入はいっています。



① どこに入はいっていますか。ぶんをよんでかきましよう。

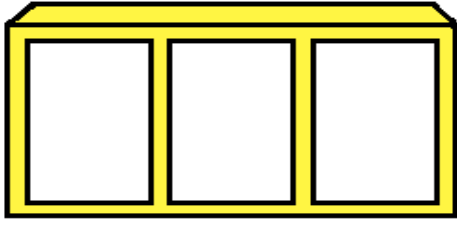
ぬいぐるみは

ミニカーは

ロボットは

② () に右みぎ・左ひだり・まん中なかをかきましよう。


③ えをはって、なにがどこに入はいっているかかきましよう。



() () ()
() () ()

(27 ページの カード)

① どこにはい入っていますか。



ぬいぐるみは

にはい入っています。

ミニカーは

にはい入っています。

ロボットは

にはい入っています。

② なにかどこにはい入っていますか。

は

に

はい入っています。

は

に

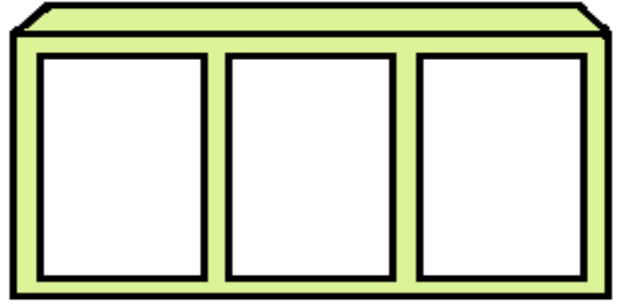
はい入っています。

は

に

はい入っています。

① ぶんのおりにえをはりましょう。

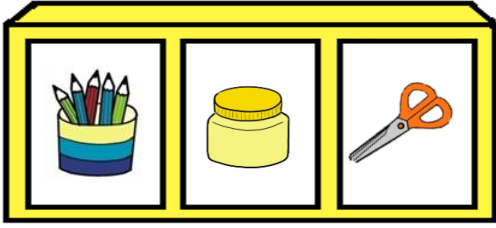


右みぎにりんごがはい入っています。

まなか中にバナナがはい入っています。

左ひだりにメロンがはい入っています。

② えをみてどこにはい入っているかかきましょう。



はさみは

のりは


えんぴつは

(27 ページの カード)

① () に上^{うえ}・下^{した}・まん中^{なか}をかきましよう。

しろのはここには、
さいふとティッシュと
ハンカチが入^{はい}っています。

()
()
()
()
()



② なにがどこに入^{はい}っているかかきましよう。


さいふは



ハンカチは



ティッシュは



① どこにはい入っていますか。

さいふは

にはい入っています。



ティッシュは

にはい入っています。

ハンカチは

にはい入っています。

② なにがどこにはい入っているかかきましよう。

--	--	--


はこの中

11 ページ


入 ^{はい} っているかをよもう。	はこの中 ^{なか} に、なにがどこに
----------------------------	-----------------------------

よみのめあて


14 ページ




16 ページ




18 ページ



20 ページ



22 ページ



24 ページ

